



ورقة عمل للصف الأول الابتدائي في مادة الرياضيات

المقارنة بين الأعداد والعدد الترتيبي

أولاً: المقارنة بين الأعداد

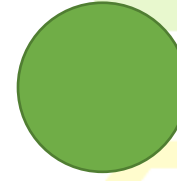
** ضع العدد المناسب لتحقق المقارنة الصحيحة



<



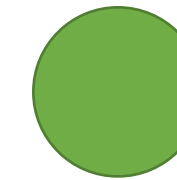

>




>



>

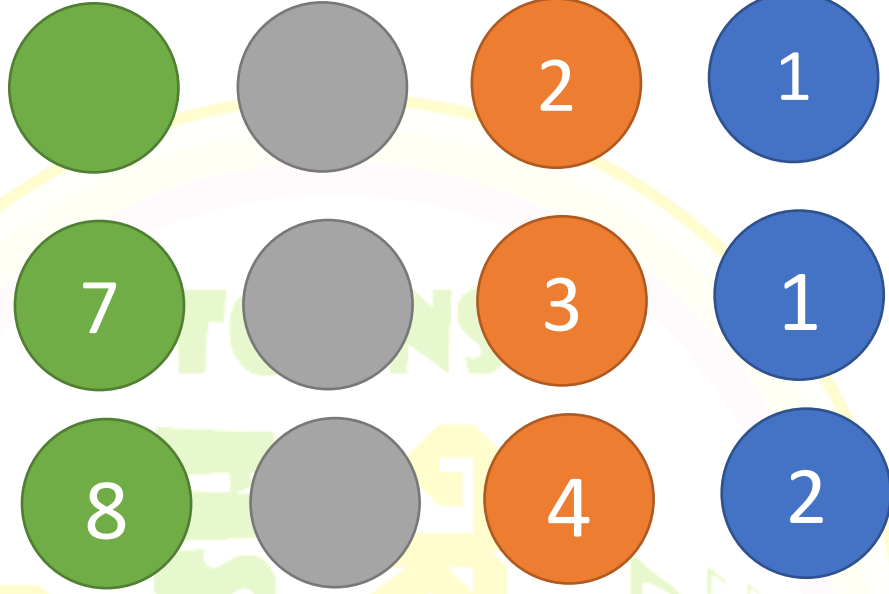


<



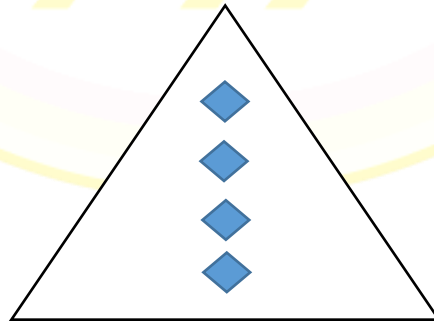
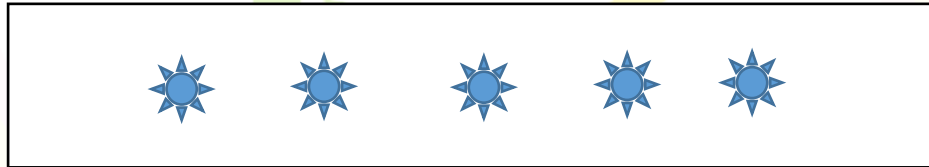


** أكمل النمط



ثانياً: العدد الترتيبي

* حوٲ العنصر الثالث من كل مجموعة



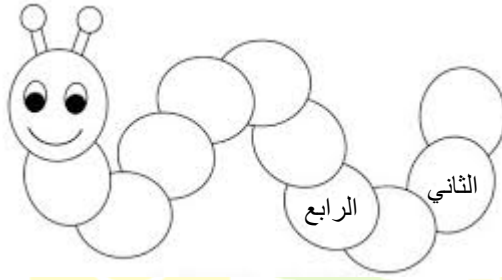
ك ل م ن ه و ي



** لون حسب العدد الترتيبي المطلوب

					الأول
					الثاني
					الثالث
					الرابع

* أكمل الفراغ بالعدد الترتيبي المناسب



* وصل العدد الترتيبي مع العدد المناسب له

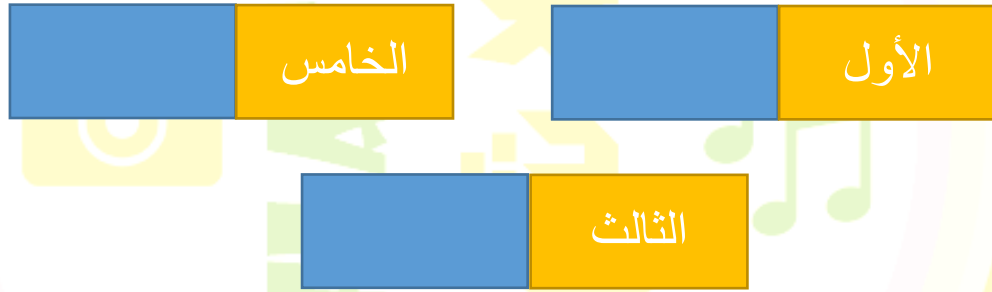
7	الأول
4	الثاني
1	الرابع
2	السادس
6	السابع



* اكتب العدد الترتيبي السابق



* اكتب العدد الترتيبي التالي



لمشاهدة فيديوهات تعليمية وترفيهية للأطفال زوروا قناة فلاش تونز على يوتيوب

youtube.com/c/FlashToons

