

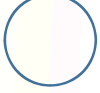





ورقة عمل للصف الأول الابتدائي في مادة الرياضيات

تعريف الطلاب بالأرقام

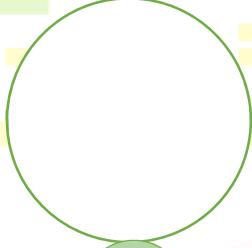
التمرين الأول: عدد العناصر واكتب العدد



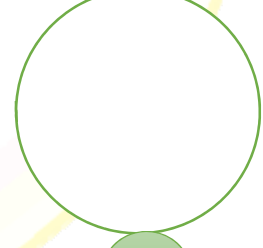
التمرين الثاني: ارسم حسب العدد



8



10



4



التمرين الثالث: لون حسب العدد

									2
									6
									9

التمرين الرابع: وصل العدد بالأرقام مع مدلوله بالحروف

واحد	3
5	2
اثنان	خمسة
4	أربعة
ثلاثة	1

youtube.com/c/FlashToons

